

	Devoir de contrôle N°1	Année scolaire : 2009-2010 Date :
		Durée : 1 heure
Nom :	Prénom :	Classe : 7B6 Groupe : 1 N° :
		Note : /20
Appréciation :		

Exercice 1 (3 points)

Mettre une croix (X) devant la bonne réponse :

- 1) Tous les périphériques d'un ordinateur sont reliés à :
 l'écran l'imprimante l'unité centrale
- 2) L'imprimante est un périphérique :
 d'entrée de sortie d'entrée/sortie
- 3) L'ordinateur est une machine
 Mécanique automatique mathématique

Exercice 2 (3 points)

Mettre une croix (X) dans la case correspondante :

	Périphérique d'entrée/sortie	Périphérique d'entrée	Périphérique de sortie
Ecran			
Microphone			
Haut-parleur			
Modem			
Scanner			
Webcam			

Exercice 3 (4 points)

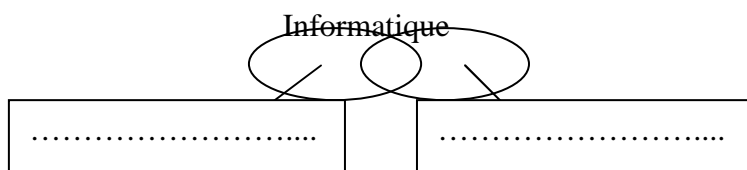
Compléter le paragraphe suivant en utilisant les mots de la liste suivante :

entrer - écrire - informations - sortir - supports de stockage

Les périphériques d'entrée/sortie permettent d'..... et de
desà/de l'unité centrale.
 La disquette, le disque dur et le CD sont des

Exercice 4 (2 points)

Complétez les mots qui composent le mot informatique.



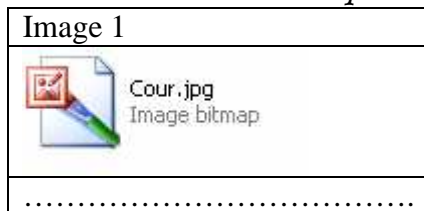
Exercice 5 (2,5 points)

Pour chaque phrase, répondez par **vrai** si la phrase est correcte ou le mot **faux** si elle est fausse. Corriger les phrases fausses

L'ordinateur est une machine manuelle	
Linux est un système d'exploitation.	
Windows XP est un système d'alarme	
La souris et la disquette sont des supports de stockage	
Pour obtenir une image sur papier, on peut utiliser un microphone	

Exercice 6 (2 points)

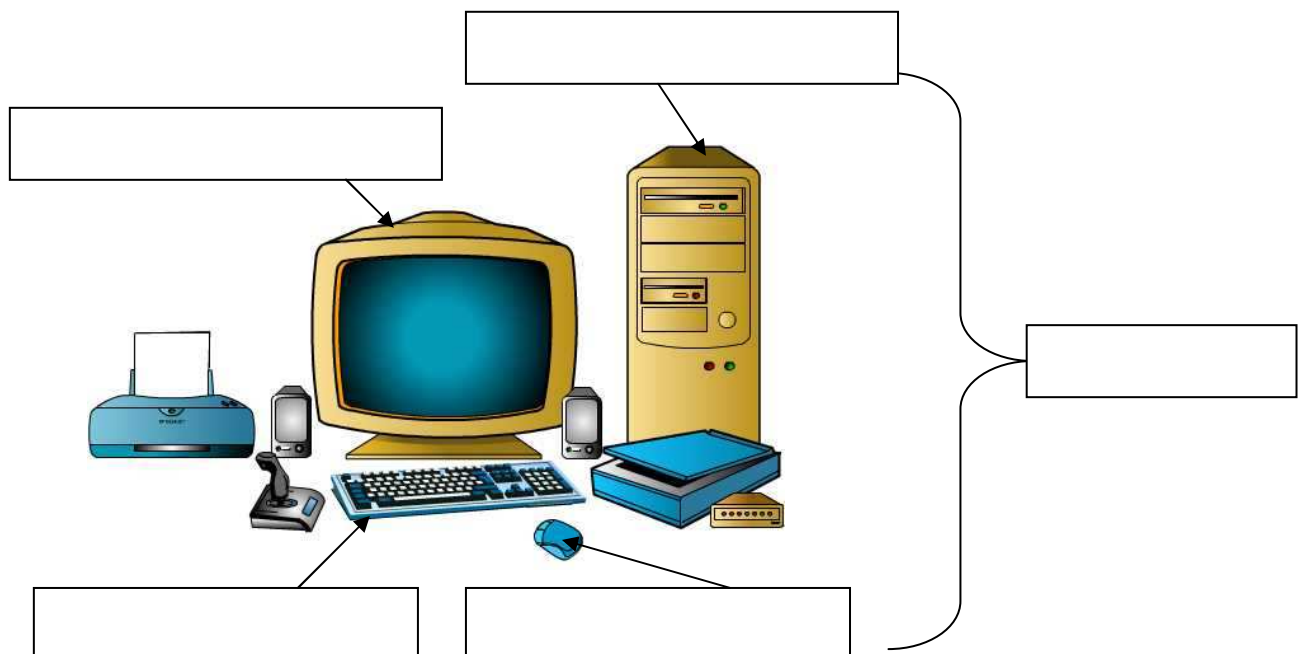
Écrire au dessous de chaque image si c'est « un fichier » ou bien « un dossier » :



Exercice 7 (2,5 points)

Compléter le dessin ci-dessous par les noms des périphériques de la liste suivante:

La souris – L'écran – Le clavier – L'ordinateur – L'unité centrale



Bon travail